

À DESCOBERTA DOS TRANSPORTES

O PERCURSO MAIS RÁPIDO?



O PERCURSO MAIS BARATO?



1. Anota todos os teus passos preenchendo o quadro.

Itinerário	Tipo de transporte	Nº de horas	Com/Sem transbordo	Custo
Bragança-Faro	Ferroviário			
	Rodoviário - autocarro			
	Rodoviário - carro			
	Aéreo			
	Usando vários modos de transporte (indicar quais) por ordem de etapas:			

2. Compara a distância tempo com a distância custo dos diferentes itinerários.

	Percurso com menor distância-tempo		Percurso com menor distância custo
---	------------------------------------	---	------------------------------------

4. Em que situação escolherias o de menor distância-tempo e em que situação escolherias o de menor distância-custo?

À DESCOBERTA DOS TRANSPORTES

O PERCURSO MAIS RÁPIDO?



O PERCURSO MAIS BARATO?



5. Anota todos os teus passos preenchendo o quadro.

Itinerário	Tipo de transporte	Nº de horas	Com/Sem transbordo	Custo
Braga-Beja	Ferroviário			
	Rodoviário - autocarro			
	Rodoviário - carro			
	aéreo			
	Usando vários modos de transporte (indicar quais) por ordem de etapas:			

6. Compara a distância tempo com a distância custo dos diferentes itinerários.

	Percurso com menor distância-tempo		Percurso com menor distância custo
---	------------------------------------	---	------------------------------------

7. Em que situação escolherias o de menor distância-tempo e em que situação escolherias o de menor distância-custo?

À DESCOBERTA DOS TRANSPORTES

O PERCURSO MAIS RÁPIDO?

O PERCURSO MAIS BARATO?



8. Consulta os mapas da rede de transportes de Portugal e apresenta uma característica positiva e outra negativa para transporte rodo e ferroviário.

